

**THẦY GIÁO**  
**CHÀO MỪNG CÁC EM ĐẾN VỚI TIẾT HỌC HÔM NAY!**

**TOÁN - LỚP 5B**


**Tiết 2: ÔN TẬP SỐ TỰ NHIÊN (Tiết 2)**

**CHÚC CÁC EM MỘT TIẾT HỌC THU ĐƯỢC NHIỀU KẾT QUẢ CAO!**

# KHỞI ĐỘNG



# KHỞI ĐỘNG



Trò chơi “Đố nhau” theo nhóm đôi: Mỗi em viết một số có nhiều chữ số, đố nhau nêu giá trị từng chữ số trong số mình viết theo hàng; làm tròn số đến hàng nghìn, hàng chục nghìn.



# Bài 1

## Chọn câu trả lời đúng.


a) Đỉnh núi nào dưới đây cao nhất?

A.




Đỉnh E-vơ-rét (Everest): 8 848 m  
(Nguồn: nationalgeographic.com)

B.



Đỉnh núi Bà Đen: 986 m  
(Nguồn: badenmountain.sunworld.vn)

C.



Đỉnh Ô-lim-pốt Mon  
(Olympus Mons): 25 000 m  
(Nguồn: nationalgeographic.com)

# Bài 1

Chọn câu trả lời đúng.

b) Bộ đồ chơi nào dưới đây có giá tiền thấp nhất?

A.



195 000 đồng

B.



1 175 000 đồng

C.



2 000 000 đồng

## Bài 2

Trong bốn năm, một cửa hàng bán được số sản phẩm và đã thống kê như bảng số liệu dưới đây.

Năm	2020	2021	2022	2023
Số sản phẩm bán được	2 873	2 837	3 293	3 018

- Nêu số sản phẩm cửa hàng bán được mỗi năm.
- Năm nào cửa hàng bán được nhiều sản phẩm nhất? Năm nào cửa hàng bán được ít sản phẩm nhất?

Năm	2020	2021	2022	2023
Số sản phẩm bán được	2 873	2 837	3 293	3 018

a) Nêu số sản phẩm cửa hàng bán được mỗi năm.

2020

2021

2022

2023

2 873

sản phẩm

2 837

sản phẩm

3 293

sản phẩm

3 018

sản phẩm

Năm	2020	2021	2022	2023
Số sản phẩm bán được	2 873	2 837	3 293	3 018

b) Năm nào cửa hàng bán được nhiều sản phẩm nhất? Năm nào cửa hàng bán được ít sản phẩm nhất?

2020

2021

2022

2023

2 873

sản phẩm

2 837

sản phẩm

3 293

sản phẩm

3 018

sản phẩm

Ít sản phẩm nhất

Nhiều sản phẩm nhất

## Bài 3


Cuối ngày, người bán hàng nói rằng: “Doanh thu cả ngày của cửa hàng được khoảng 2 500 000 đồng”. Thực tế doanh thu cả ngày của cửa hàng là 2 545 000 đồng.

- Hỏi người bán hàng đã làm tròn doanh thu đến hàng nào?
- Hãy làm tròn doanh thu thực tế của cửa hàng đến hàng chục nghìn.

## Bài 3

a) Hỏi người bán hàng đã làm tròn doanh thu đến hàng nào?

2 545 000 → 2 500 000




➤ Người bán hàng đã làm tròn doanh thu đến hàng trăm nghìn

## Bài 3

b) Hãy làm tròn doanh thu thực tế của cửa hàng đến hàng chục nghìn.

2 545 000 → 2 550 000




➤ Làm tròn doanh thu thực tế của cửa hàng đến hàng chục nghìn là: **2 550 000**



Vận dụng, trải nghiệm

## Bài 4

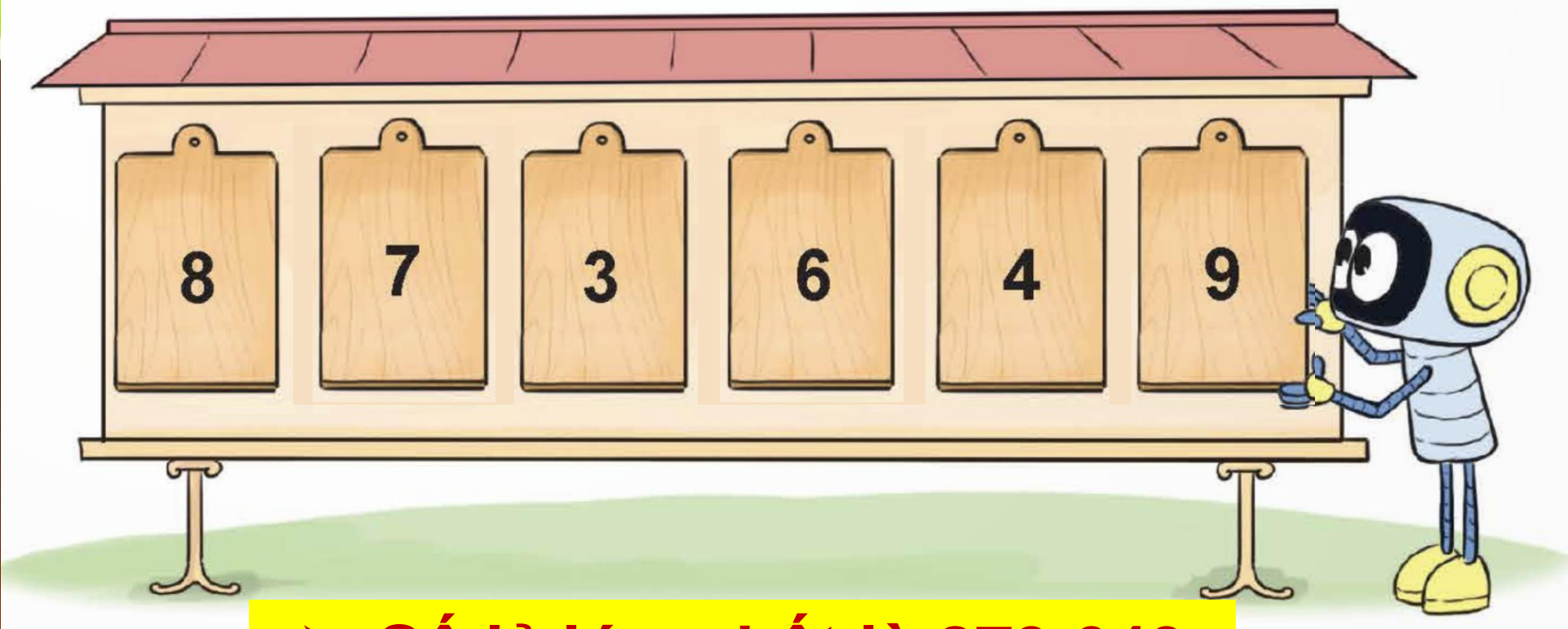
Rô-bốt lập số 863 749 bằng các tấm thẻ như hình dưới đây.



Em hãy đổi chỗ 2 tấm thẻ để nhận được một **số lẻ lớn nhất**.

## Bài 4

Rô-bốt lập số 863 749 bằng các tấm thẻ như hình dưới đây.



➤ Số lẻ lớn nhất là 873 649

TIẾT HỌC KẾT THÚC!

Chúc các em vui, khỏe, học tập tốt!